


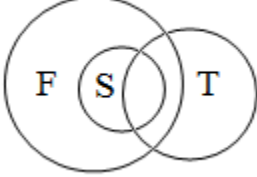
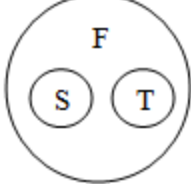
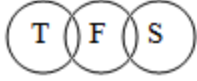
COAL INDIA LIMITED
RECRUITMENT OF MANAGEMENT TRAINEES 2016-17
MODEL QUESTIONS FOR PAPER-I :COMMON FOR ALL DISCIPLINES

ENGLISH:

Q1	What is the least number which when divided by 24, 96 and 84 leaves remainder 8 in each case?
Q1_OA	344
Q1_OB	664
Q1_OC	672
Q1_OD	680
Q2	A sum of money becomes ` 2016 in 2 years and ` 2124 in 3 years, at simple interest. What is the sum of money?
Q2_OA	` 1700
Q2_OB	` 1740
Q2_OC	` 1800
Q2_OD	` 1980
Q3	A train 120 m long is moving at a speed of 126 km/h. It crosses a train 150 m long moving in the same direction on parallel tracks in 27 seconds. What is the speed of second train?
Q3_OA	85 km/h
Q3_OB	90 km/h
Q3_OC	105 km/h
Q3_OD	110 km/h

Q4	The ratio of 12 th term to 15 th term of a G.P. is 8 : 1. What is the common ratio of G.P?
Q4_OA	$\sqrt{2}$
Q4_OB	$\frac{1}{\sqrt{2}}$
Q4_OC	2
Q4_OD	$\frac{1}{2}$
Q5	A spherical balloon of radius 120 cm subtends an angle of 60° at the eye of an observer. If the angle of elevation of its centre is 60°, what is the height of the centre of the balloon? (Assume that eye of observer is at the level ground.)
Q5_OA	120 cm
Q5_OB	$120\sqrt{2}$ cm
Q5_OC	$120\sqrt{3}$ cm
Q5_OD	$120(\sqrt{2} + 1)$ cm
Q6	Select the related word from the given alternatives. Book : Paper : : Furniture : ?
Q6_OA	Wood
Q6_OB	Table
Q6_OC	Chair
Q6_OD	Carpenter
Q7	A mother is three times as old as her daughter. Four years ago, the mother was four times as old as her daughter then was. The present age of the daughter is?

Q7_OA	10 years
Q7_OB	12 years
Q7_OC	13 years
Q7_OD	14 years
Q8	If in a certain code language CLOCK is written as DMPDL, how DELHI will be written in the same code?
Q8_OA	IHLED
Q8_OB	CDKGH
Q8_OC	EFMJI
Q8_OD	EFMIJ
Q9	Kapil going to market from his house, walks 20 meters towards North. He turns right and goes 15 meters. Then he turns right again and walks 20 meters to reach the marketing complex. In which direction is Kapil now from his house?
Q9_OA	East
Q9_OB	West
Q9_OC	North
Q9_OD	South
Q10	Identify the diagram that best respects the relationship among classes given below: Females (F), Sisters (S), Teachers (T)
Q10_OA	


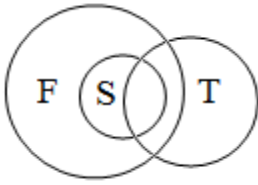
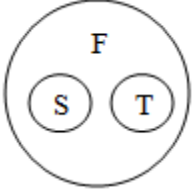
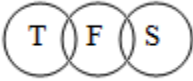
Q10_OB	
Q10_OC	
Q10_OD	

HINDI:

Q1	वह छोटी से छोटी संख्या क्या है, जिसे 24, 96 तथा 84 से विभाजित करने पर प्रत्येक स्थिति में 8 शेष बचता है?
Q1_OA	344
Q1_OB	664
Q1_OC	672
Q1_OD	680
Q2	एक राशि साधारण ब्याज की दर से 2 वर्षों में ` 2016 हो जाती है, तथा 3 वर्षों में ` 2124 हो जाती है। वह राशि कितनी है?
Q2_OA	` 1700
Q2_OB	` 1740
Q2_OC	` 1800

Q2_OD	` 1980
Q3	एक रेलगाड़ी जिसकी लंबाई 120 m है, 126 km/h की चाल से चल रही है। यह रेलगाड़ी, उसी दिशा में समांतर पटरियों से जा रही 150 m लंबी दूसरी ट्रेन को 27 सेकण्ड में पार करती है। दूसरी रेलगाड़ी की चाल कितनी है?
Q3_OA	85 km/h
Q3_OB	90 km/h
Q3_OC	105 km/h
Q3_OD	110 km/h
Q4	किसी G.P (गुणोत्तर श्रेणी) के 12वें तथा 15वें पदों का अनुपात 8 : 1 है। G .P का सार्व अनुपात (common ratio) क्या है?
Q4_OA	$\sqrt{2}$
Q4_OB	$\frac{1}{\sqrt{2}}$
Q4_OC	2
Q4_OD	$\frac{1}{2}$
Q5	एक गोलाकार गुब्बारा जिसकी त्रिज्या 120 cm है, एक प्रेक्षक की आँखों पर 60° का कोण प्रेक्षित करता है। यदि गुब्बारे के केंद्र का उन्नयन कोण 60° है, तो गुब्बारे के केंद्र की ऊँचाई कितनी है? (मान लीजिए प्रेक्षक की आँख धरातल की सतह पर है।)
Q5_OA	120 cm
Q5_OB	$120\sqrt{2}$ cm
Q5_OC	$120\sqrt{3}$ cm
Q5_OD	$120(\sqrt{2} + 1)$ cm

Q6	दिए गए विकल्पों में से संबंधित शब्द चुनिए: पुस्तक : कागज़ :: फर्नीचर : ?
Q6_OA	लकड़ी
Q6_OB	मेज
Q6_OC	कुर्सी
Q6_OD	बढ़ई
Q7	एक माँ की आयु उसकी पुत्री से तीन गुना अधिक है। चार वर्ष पूर्व, माँ की आयु उसकी पुत्री की आयु से चार गुना थी। पुत्री की वर्तमान आयु है:
Q7_OA	10 वर्ष
Q7_OB	12 वर्ष
Q7_OC	13 वर्ष
Q7_OD	14 वर्ष
Q8	किसी कूटभाषा में CLOCK को DMPDL लिखा जाता है, तो उसी कूटभाषा में DELHI को किस प्रकार लिखा जायेगा?
Q8_OA	IHLED
Q8_OB	CDKGH
Q8_OC	EFMJI
Q8_OD	EFMIJ
Q9	कपिल अपने घर से बाजार के लिए निकलकर २० मीटर उत्तर की ओर चलता है। वह दायें मुड़कर १५ मीटर चलता है। पुनः दायें मुड़कर, बाजार संकुल पहुचने के लिए २० मीटर चलता है। कपिल अब अपने घर से किस दिशा में है?

Q9_OA	पूर्व
Q9_OB	पश्चिम
Q9_OC	उत्तर
Q9_OD	दक्षिण
Q10	<p>उस चित्र को पहचानिए, जो अधोलिखित वर्गों के संबंध को श्रेष्ठतम तरीके से प्रदर्शित करता है:</p> <p>महिलाएँ (F), बहनें (S), शिक्षक (T)</p>
Q10_OA	
Q10_OB	
Q10_OC	
Q10_OD	

COAL INDIA LIMITED
RECRUITMENT OF MANAGEMENT TRAINEES 2016-17
MODEL QUESTIONS FOR PAPER-II : PUBLIC RELATIONS(Post Code 27)

ENGLISH:

Q1	With digital communication, audience has more control over their sources of information and the companies have no other option but to communicate with the audience. In this instance, persuasion takes place both from the organization and the audience. This represents _____.
Q1_OA	One-way communication
Q1_OB	Two-way symmetric communication
Q1_OC	Two-way asymmetric communication
Q1_OD	Public information
Q2	W-O-C stands for
Q2_OA	Word of communication
Q2_OB	Word of campaign communication
Q2_OC	Word-of-click communication
Q2_OD	None of the above
Q3	Which of the following is a pejorative term for PR practitioners?
Q3_OA	Flack
Q3_OB	Press baron
Q3_OC	Press Mughal
Q3_OD	Corporate communicators
Q4	It is synonymous with booklet or brochure. Which PR tool is discussed here?
Q4_OA	Press Kit
Q4_OB	Pamphlet
Q4_OC	Leaflet
Q4_OD	House Journal
Q5	Informal feedback or gossip circulating among employees is known as:
Q5_OA	Euphemism
Q5_OB	Grapevine
Q5_OC	Information explosion
Q5_OD	Trickle down
Q6	What is the name of bi-monthly newsletter published by the Childline India Foundation which secured the first rank in English house journal category in the PRSI National Awards 2015?

Q6_OA	Smile
Q6_OB	Bachpan
Q6_OC	Hello Childline
Q6_OD	Childhood
Q7	Two Indian business journalists – Dilip Cherian and Bobby Kewalramani – pioneered the science of image management and started a firm in 1992. The name of the company is:
Q7_OA	Mudra Communications
Q7_OB	Perfect Relations
Q7_OC	Ogilvy PR
Q7_OD	Ad Factors
Q8	Public Relations is different from Advertising. Which one of the following establishes the difference between the two?
Q8_OA	PR conveys free messages through media
Q8_OB	Media space is bought to place a press release
Q8_OC	Advertisement promotes positive news and PR promotes negative news
Q8_OD	PR is considered biased while an advertisement is considered more credible
Q9	A branded atta flour weighed 20 gms less than the proclaimed 1 Kg mentioned on the package. This causes loss to consumers. The Act which deals with this issue is:
Q9_OA	Monopolies and Restrictive Trade Practices Act, 1969
Q9_OB	Indecent Representation of Women Act
Q9_OC	The Young Persons (Harmful Publication) Act, 1956
Q9_OD	The Drug and Magic Remedies (Objectionable Advertisement) Act, 1954
Q10	The international advertising festival for creativity is called:
Q10_OA	Cannes
Q10_OB	Cannes Lion
Q10_OC	Oscar
Q10_OD	IAA Olive Crown

HINDI:

Q1	डिजिटल संचार के साथ, दर्शकों के पास जानकारी के अपने स्रोतों पर अधिक नियंत्रण है और कंपनियों के पास दर्शकों के साथ संवाद करने के लिए अलावा कोई अन्य विकल्प नहीं है। इस उदाहरण में, अनुनय कंपनी और दर्शकों दोनों से उत्पन्न होता है। यह _____ दर्शाता है।
Q1_OA	एकतरफा संवाद
Q1_OB	दो-तरफा सममितीय संचार
Q1_OC	दो-तरफा असममितीय संचार
Q1_OD	सार्वजनिक जानकारी
Q2	W-O-C का पूर्ण रूप है:
Q2_OA	संवाद के शब्द
Q2_OB	संवाद अभियान के शब्द
Q2_OC	क्लिक संवाद के शब्द
Q2_OD	उपरोक्त में से कोई नहीं।
Q3	निम्नलिखित में से कौन सा पीआर व्यवसायी के लिए एक अपमानजनक शब्द है?
Q3_OA	फ्लैक
Q3_OB	प्रेस बारोन
Q3_OC	प्रेस मुगल
Q3_OD	कॉर्पोरेट संवाद
Q4	यह बुकलेट या ब्रोशर का एक पर्यायवाची है। यहां कौन से पीआर टूल के बारे में बताया गया है?
Q4_OA	प्रेस किट
Q4_OB	पम्पलेट
Q4_OC	लिफलेट
Q4_OD	हाउस जरनल

Q5	कर्मचारियों के बीच अनौपचारिक प्रतिक्रिया या गपशपकहलाती है:
Q5_OA	प्रेयोक्ति
Q5_OB	चर्चा
Q5_OC	सूचना की वृद्धि
Q5_OD	ट्रिकल डाउन
Q6	चाइल्डलाइन इंडिया फाउंडेशन जिसने 2015 में पीआरएसआई के राष्ट्रीय पुरस्कारों में प्रथम स्थान प्राप्त किया है, के द्वारा प्रकाशित किये जाने वाले द्वि-मासिक न्यूजलेटर का नाम क्या है?
Q6_OA	स्माइल
Q6_OB	बचपन
Q6_OC	हेल्लो चिल्ड्रन
Q6_OD	चाइल्डहुड
Q7	दो भारतीय व्यवसायिक पत्रकारों - दिलीप चेरियन और खॉबी केवलरमानी- ने छवि प्रबंधन के विज्ञान का बीड़ा उठाया है और 1992 में एक कंपनी शुरू की थी। कंपनी का नाम है:
Q7_OA	मुद्रा कम्यूनिकेशन
Q7_OB	पर्फेक्ट रिलेशनस
Q7_OC	ओगिलवी पीआर
Q7_OD	एड फैक्टर
Q8	सार्वजनिक संबंध विज्ञापन से अलग होता है। निम्नलिखित में से कौन सा इन दोनों के बीच अंतर स्थापित करता है?
Q8_OA	पीआर मीडिया के माध्यम से मुफ्त संदेश देते हैं।
Q8_OB	मीडिया स्पेस एकप्रेस विज्ञप्ति जारी की जगहके लिए खरीदा जाता है।
Q8_OC	विज्ञापन सकारात्मक खबरों को बढ़ावा देता है और सीआर नकारात्मक खबरों को बढ़ावा देता है।
Q8_OD	पीआर को पक्षपातपूर्ण माना जाता है, जबकि एकविज्ञापन अधिक विश्वसनीय

	माना जाता है।
Q9	एकब्रांडेड आटा तोलने की मशीन पैकेज पर उल्लेखित 1 किलो की अपेक्षा 20 ग्राम कमतोल बताता है। इससे ग्राहकों को नुकसान होता है। इसमुद्दे से संबंधित धारा है:
Q9_OA	एकाधिकार एवं प्रतिबंधात्मक व्यापारिक व्यवहार अधिनियम, 1969
Q9_OB	महिलाओं के अक्षील प्रतिनिधित्व (निषेध) अधिनियम, 1986
Q9_OC	युवा (आपत्तिजनक विज्ञापन) अधिनियम 1956
Q9_OD	औषधि औस्वमत्कारिक उपचार (आपत्तिजनक विज्ञापन) अधिनियम, 1954
Q10	रचनात्मकता के लिए इंटरनेशनल एडवरटाइजिंग फेस्टिवल कहा जाता है:
Q10_OA	कैनन
Q10_OB	कैनन लायन
Q10_OC	ऑस्कर
Q10_OD	IAA ओलिव क्राउन